

受験番号	
------	--

横浜国立大学大学院国際社会科学府
経済学専攻博士課程前期
一般入試（ERE 成績証明書を提出した者）
令和8年度
学 力 検 査 問 題
試験問題冊子（専門科目）

《注意事項》

1. 試験開始の合図があるまで、この冊子を開いてはいけません。
2. 受験番号を、この冊子と解答用紙・計算用紙に必ず記入してください。また、氏名も解答用紙に必ず記入して下さい。
3. 落丁、乱丁、印刷不鮮明の箇所があった場合には、申し出てください。
4. 試験時間 9:00～10:00
試験開始後40分間は退室できません。また、試験終了10分前からは途中退室できません。
5. 問題は、「ミクロ経済学・マクロ経済学Ⅱ」「経済史」「経済政策」「統計学」「計量経済学」の5科目から出題されています。
これら5科目から1科目を選択し、解答してください。
なお、出願時に申請した科目以外でも選択可能です。
6. 解答は、解答用紙に記入してください。その際、専門科目名欄の自分が選択する科目名のところに○を記入してください。記入されていない場合、採点されないことがあります。解答が用紙2枚以上に渡る場合も、必ずすべての解答用紙の専門科目名欄に○を記入してください。
解答は、日本語で行います。ただし、外国人出願者は、英語で解答することもできます。
7. この冊子を持ち帰ってはいけません。

令和 8 年度

横浜国立大学大学院国際社会科学府

経済学専攻博士課程前期

一般入試（E R E 成績証明書提出者）

専門科目問題目次

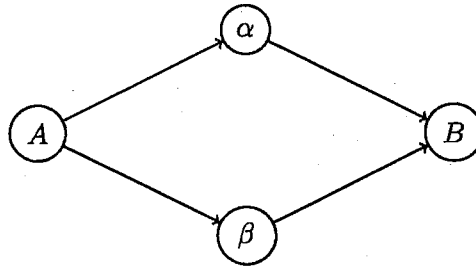
ミクロ経済学・マクロ経済学Ⅱ	・ ・ P	1
経済史	・ ・ ・ ・ ・ P	4
経済政策	・ ・ ・ ・ ・ P	5
統計学	・ ・ ・ ・ ・ P	8
計量経済学	・ ・ ・ ・ ・ P	9

【ミクロ経済学・マクロ経済学 II】

すべての問題に解答すること。

問題 1

地点 A から地点 B までには2つのルートが存在する。1つは中継点 α を通るもので、もう1つは中継点 β を通るものである。地点の移動には時間がかかり、 A から α までは $1+x$ 、 α から B へは $1+0.8x$ であり、 A から β までは $1+0.8x$ 、 β から B までは $1+x$ である。 x はそのルートを通る人数で、混雑を表している。



いま、10人のドライバー ($N = \{1, 2, 3, \dots, 10\}$) が同時に A から B へ向かおうとしている。任意のドライバーは他のドライバーの選択を見ることなくどちらかのルートを選ぶ。ここで確率的な選択は考えない。よって、ドライバー i の戦略集合は $S_i = \{\alpha, \beta\}$ と書ける。ここで α は中継点 α を通るルート、 β は中継点 β を通るルートを選択することを意味する。

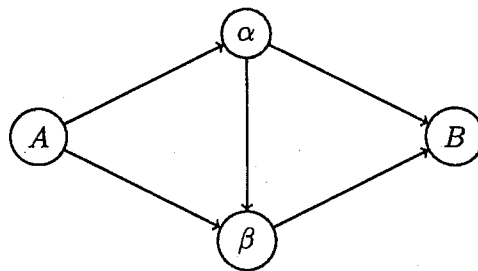
ドライバーはかかる時間が短い方が嬉しいので、ドライバーの利得は

—(移動時間)

とする。最後に、共有知識を仮定する。以下の設問に答えよ。

1. 全てのドライバーは対称であることから、 i 以外の戦略の組 s_{-i} を α を選択した人数と β を選択した人数で表現し直すことにする。 $\alpha(s_{-i})$ を s_{-i} の下で α を選択した人数とするとき、 $\alpha(s_{-i})$ を数学記号のみを用いて定義しなさい。また $\alpha(s_{-i})$ を用いて $\beta(s_{-i})$ を同様に定義しなさい。数の表現は $|\cdot|$ や $\#(\cdot)$ など数学でしばしばみられる表記方法であれば何を使ってもよい。

2. 任意の i について利得関数を $\alpha(s_{-i})$ を用いて書きなさい。
3. ナッシュ均衡を全て求めなさい。またナッシュ均衡における各ドライバーの利得を求めなさい。
4. いま、 α から β への新しいバイパスができたとする（バイパスは片道で β から α へは行けないことに注意）。よって、 A から B へ向かうルートは3つになった。 α から β までの移動には $1 + 0.1x$ の時間がかかるとする。
10人のドライバーが3つのルートから1つのルートを同時に選択するとき、ナッシュ均衡を全て求めなさい。ここで、最初に選択したルートは途中で変更することができないものとする。



5. バイパスができる前とできた後のそれぞれのナッシュ均衡を比較してバイパスの必要性を議論しなさい。

問題2 人口成長と技術進歩が存在するソロー経済成長モデルを用いて閉鎖経済における資本蓄積について考える。時間は離散的であるとする。 K_t を t 期の資本ストック、 L_t を t 期の労働人口とする。労働人口(L_t)は每期 $n \geq 0$ の率で増加する($L_{t+1} = (1+n)L_t$)。

t 期における総生産量は $Y_t = F(A_t L_t, K_t) = (A_t L_t)^\alpha K_t^{1-\alpha}$ であたえられるとする。ここで、 $\alpha \in (0, 1)$ 、 A_t は t 期における労働増大的な技術水準をあらわす。技術水準(A_t)は每期 $g \geq 0$ の率で増加する($A_{t+1} = (1+g)A_t$)。 $A_t L_t$ を t 期における効率労働と呼ぶ。

家計の貯蓄率を $s \in (0, 1)$ とすると、 t 期の経済全体の貯蓄は sY_t となり、残りの $(1-s)Y_t$ は消費となる。また、資本ストックは每期 $\delta \in (0, 1)$ の率で減価償却されるとする。初期の資本ストック($K_0 > 0$)、労働人口($L_0 > 0$)及び技術水準($A_0 > 0$)は所与とする。以下の問いに答えなさい。

- (1) 効率労働1単位当たりの資本ストック($k_t = K_t/A_t L_t$)の変化を表す式を求めなさい。
- (2) 定常状態における効率労働1単位当たりの資本ストック(k^*)を求めなさい。
- (3) k_t の成長率($G_t = \frac{k_{t+1}-k_t}{k_t}$)を求めなさい。
- (4) $k_0 = \frac{K_0}{A_0 L_0} > k^*$ であるとする。時間を通じて k_t の成長率がどのように変化するか説明しなさい。
- (5) 定常状態における効率労働1単位当たりの消費量(c^*)が最大となるような貯蓄率を求めなさい。
- (6) 貯蓄率が(5)で求めた値よりも大きいとする。貯蓄率の増加が定常状態の効率労働1単位当たりの資本ストックと効率労働1単位当たりの消費量に与える影響を説明しなさい。
- (7) 経済が定常状態にあるとする。自然災害により経済全体の資本ストックが減少したとき、効率労働1単位当たりの資本ストックとその成長率が時間を通じてどのように変化するか説明しなさい。(他の変数やパラメータに自然災害の影響は無いとする。)

【経済史】

次の 2 つの問題の中から 1 つを選んで解答しなさい。なお、選んだ問題の番号を解答の冒頭に記しなさい。

問題 1 日本経済史

1945 年の敗戦後において、激しいインフレーションに見舞われた日本経済は、どのようにインフレーションを収束させていったのか、説明しなさい。説明にあたっては、①金融緊急措置、②傾斜生産、③ドッジラインの 3 つの政策に必ず言及すること。

問題 2 西洋経済史

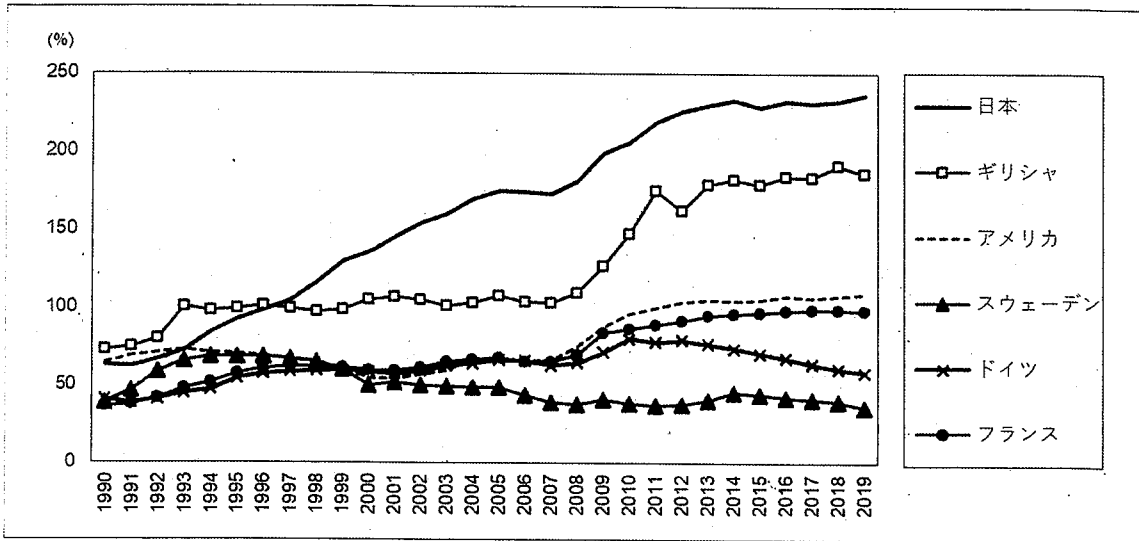
1760 年代から 1830 年頃にかけて、イギリスでは世界で初めての産業革命が実現した。その後 19 世紀には、ヨーロッパの大陸諸国やアメリカ合衆国にも工業化が波及することになる。では、イギリスでの産業革命には他の諸国と比べて、どのような違いがあったのか説明しなさい。

【経済政策】

経済政策選択者は、【1】と【2】について、指示に従ってそれぞれ回答しなさい。

【1】次の図表を参考に、設問(1)と(2)に答えなさい。

図 各国の政府債務残高の推移（対 GDP 比，%）



注1：General Government Debt の対 GDP 比。

注2：1990~2019年の値。

出所：IMF, Global Debt Database より出題者作成。

表 各国の一般政府支出の規模（対 GDP 比，%）

（単位：%）

	一般公共サービス	防衛	秩序・安全	経済	保健・医療	教育	社会福祉	その他	合計
日本	3.7	0.9	1.3	3.7	7.7	3.3	16.1	2.2	38.9
アメリカ	5.8	3.3	2.0	3.5	9.5	5.9	7.6	0.8	38.3
ギリシャ	7.8	2.0	2.1	4.1	5.7	3.9	19.6	2.5	47.7
ドイツ	5.8	1.1	1.6	3.2	7.3	4.4	19.6	2.1	45.0
スウェーデン	6.9	1.2	1.3	4.4	7.0	6.9	19.0	2.5	49.2
フランス	5.6	1.7	1.6	5.9	8.0	5.3	23.8	3.5	55.4

注1：その他には、環境保全、住宅・地域施設、娯楽・文化・宗教が含まれている。

注2：2019年の値。

出所：横浜国立大学経済学部テキスト・プロジェクトチーム（2024）『ゼロからはじめる経済入門——経済学への招待[新版]』有斐閣，197頁の表9-1，およびギリシャについては OECD Statistics より出題者作成。

(1) 図表を参考に、近年、日本の財政状況が悪化している要因について欧米諸国の状況と比較しながら考察しなさい。

(2) 日本の政府債務残高は、2010 年前後に深刻な財政危機を経験したギリシャより大きい水準にある。政府債務残高の累積は、日本の財政運営にどのような制約をもたらしていると考えられるか。考察しなさい。

【2】 次の<1>から<3>のうち、ひとつを選択して回答しなさい。選択した問題番号を明記すること。

<1> 以下の設問(1)～(3)に回答しなさい。

(1) GNP と GDP の違いについて説明しなさい。

(2) 現代においては、国民経済の規模を測る指標として GNP よりも GDP が重視されるようになってきている。GNP よりも GDP に注目することは、各国の政府や企業にとってどのような利点があるか。GNP よりも GDP が重視されるようになってきている背景に触れながら論じなさい。

(3) 現在、GDP では捉えられない包括的な富を数量的に把握しようとする試みが進められている。その背景について、包括的富 (Inclusive Wealth) の具体的な内容を明らかにしながら論じなさい。

<2> 以下の文章を読み、設問(1)と(2)に回答しなさい。

第二次世界大戦後から今日まで、世界は、冷戦による東西陣営間の壁はあったにせよ、全体として自由貿易の推進が西側諸国の間ではほぼ共通の目標であった。しかし注意すべきことは、ウルグアイ・ラウンドまでの自由化は、自由化に向かう「努力をする」という特徴があり、実際には各国とも複雑で多様な保護政策（国境措置）を採用し、実施していたということである。最も強い保護は数量規制で、たとえばあるモノの輸入量をゼロとすることも可能であった。その一例は 1999 年 3 月までの日本の米市場である。それより緩い規制方法は、関税 (tariff または customs duty) とくに輸入関税で、当時どの国も、数十%は一般的で、数百%～数千%という関税率もあった。

出所：横浜国立大学経済学部テキスト・プロジェクトチーム (2024)『ゼロからはじめる経済入門——経済学への招待[新版]』有斐閣, 109 項を一部改変。

(1) 貿易額の計上においては、CIF 価格による方法と FOB 価格による方法がある。CIF 価

格と FOB 価格について、それぞれ説明しなさい。

(2) 下線部について。輸入関税がもたらす効果について説明しなさい。

<3> 以下の設問(1)と(2)に回答しなさい。

(1) 金融システムの安定化に向けた諸政策のことを「プルーデンス政策」と呼ぶ。その具体的な内容について、政策手段を例示しながら説明しなさい。

(2) 世界金融危機を契機に、国際機関や主要国間では、金融システムの安定化に向けた枠組みの構築が進められている。その内容について具体例を挙げながら説明するとともに、金融危機の予防という観点から残されている課題について論じなさい。

以上

統計学

1. 互いに独立な確率変数 X, Y について $Z = \min(X, Y)$ と定義する。

(a) $F_Z(z) = F_X(z) + F_Y(z) - F_X(z)F_Y(z)$ を示せ。 (F_X, F_Y, F_Z はそれぞれ X, Y, Z の分布関数)

(b) X, Y が独立同一の標準正規分布 $N(0, 1)$ に従うとき Z^2 の確率密度関数を求めよ。

2. $X \sim \text{Gamma}(\alpha, \beta)$ とする。その確率密度関数は

$$f_X(x) = \frac{x^{\alpha-1}e^{-x/\beta}}{\Gamma(\alpha)\beta^\alpha}, \quad x > 0$$

であらわされる。ガンマ関数 Γ は次のように定義され、

$$\Gamma(\alpha) = \int_0^\infty x^{\alpha-1}e^{-x} dx, \quad \alpha > 0,$$

再帰的性質

$$\Gamma(\alpha) = (\alpha - 1)\Gamma(\alpha - 1), \quad \alpha > 1$$

を満たす。

(a) $E(X) = \alpha\beta$ を示せ。

(b) $E\left(\frac{1}{X}\right)$ を計算せよ。

(c) $\text{Var}\left(\frac{1}{X}\right)$ を計算せよ。

計量経済学

問1. 小問集合

1. 学生の授業への出席率はその成績に与える効果をパネルデータから検証するとしよう。データの観測単位は学生 $i \times$ 学期 t とし、 y_{it} をその学期の平均成績、 x_{it} をその学期の授業出席率として以下の固定効果モデルを考える。

$$y_{it} = \alpha_i + \beta_1 x_{it} + \epsilon_{it}, \quad (i = 1, 2, \dots, N, t = 1, 2, \dots, T)$$

ただし α_i は学生 i の固定効果を表す。このモデルの固定効果推定から得られる β_1 の推定量 $\widehat{\beta}_1$ はどのようなバイアスを含むと考えられるか。考えられる要因を1つ挙げ、その要因の y_{it} および x_{it} それぞれとの関係と、 $\widehat{\beta}_1$ が持つバイアスの方向を簡潔に説明しなさい。

2. 観測値 (x_i, y_i) ($i = 1, 2, \dots, N$)に対して

$$y_i = \beta_0 + \beta_1 x_i + \epsilon_i, \quad (i = 1, 2, \dots, N)$$

が成立している。ここで、 β_0, β_1 は未知の定数、 (x_i, ϵ_i) ($i = 1, 2, \dots, N$)は独立で同一な分布に従う確率変数の組であり、 ϵ_i ($i = 1, 2, \dots, N$)は観測できず、 $E(\epsilon_i | x_i) = 0$ ($i = 1, 2, \dots, N$)を満たしている。

このとき単回帰モデル $y_i = \beta_0 + \beta_1 x_i + \epsilon_i$ の β_1 の最小二乗推定量

$$\widehat{\beta}_1 = \frac{\sum_{i=1}^N (x_i - \bar{x})(y_i - \bar{y})}{\sum_{i=1}^N (x_i - \bar{x})^2}$$

が不偏性を満たすことを示せ。ただし \bar{x}, \bar{y} は x_i, y_i それぞれの標本平均を表す。

3. 独立で同一な分布に従う確率変数の組 $(y_i, y_i^*, x_i, \epsilon_i)$ に対して

$$y_i^* = \beta_0 + \beta_1 x_i + \epsilon_i,$$

$$\epsilon_i | x_i \sim \text{Normal}(0, 1),$$

$$y_i = \begin{cases} 0 & \text{if } y_i^* < 0 \\ 1 & \text{if } y_i^* \geq 0 \end{cases}$$

が成立している。ここで β_0, β_1 は定数であり、 $\text{Normal}(0, 1)$ は平均0分散1の正規分布(標準正規分布)を表し、 $\Phi(\cdot)$ をその分布関数とする。

このとき $E(y_i | x_i)$ を $\Phi(\cdot)$ を使った形で求めよ。

- ## 問2. 観測値 (x_i, y_i, z_i) ($i = 1, 2, \dots, N$)に対して、単回帰モデル

$$y_i = \beta_0 + \beta_1 x_i + \epsilon_i, \quad (i = 1, 2, \dots, N)$$

の x_i を内生変数と考え z_i を操作変数として用いた2段階最小二乗法によるパラメータ

(β_0, β_1) の推定を考える。このとき以下の問いに答えよ。

なお単回帰モデル $y_i = \beta_0 + \beta_1 x_i + \epsilon_i$ の最小二乗推定量が

$$(\widehat{\beta}_0, \widehat{\beta}_1) = (\bar{y} - \widehat{\beta}_1 \bar{x}, \frac{\sum_{i=1}^N (x_i - \bar{x})(y_i - \bar{y})}{\sum_{i=1}^N (x_i - \bar{x})^2})$$

であることは導出なく用いてもよい。ただし \bar{x}, \bar{y} は x_i, y_i それぞれの標本平均を表す。

1. この場合の2段階最小二乗法はどのような手順となるか。各段階の回帰分析での説明変数と被説明変数を明確に示しながら簡潔に説明せよ。
2. 1段階目の回帰から得られる被説明変数の予測値を求めよ。
3. 2段階目の回帰から得られる β_1 の推定量 $\widehat{\beta}_{1,2SLS}$ を求め、それが操作変数推定量

$$\widehat{\beta}_{1,IV} = \frac{\sum_{i=1}^N (z_i - \bar{z})(y_i - \bar{y})}{\sum_{i=1}^N (z_i - \bar{z})(x_i - \bar{x})}$$

と一致することを示せ。ただし \bar{z} は z_i の標本平均を表す。